

11-5

ВСЕРОССИЙСКАЯ ОЛИМПИАДА ШКОЛЬНИКОВ ПО ИСТОРИИ.

МУНИЦИПАЛЬНЫЙ ЭТАП. 11 КЛАСС

Продолжительность: 240 минут.

В заданиях 1–3 дайте один верный ответ.

1. Съезд князей, на котором была сказана фраза: «Почто губимъ Рускую землю, сами на ся котору имуще? А половци землю нашу несуть роздно и ради суть, оже межи нами рать донинѣ. Отселѣ имѣмся въ едино сердце и съблюдемъ Рускую землю», состоялся в городе

- 1) Долобске
- 2) Любече

- 3) Уветичи
- 4) Теревовле

2. «Бертинские анналы», зафиксировавшие посольство «кагана» русов в Европу, были созданы в (во)

- 1) Франкском государстве
- 2) Вестготском королевстве

- 3) Византийской империи
- 4) государстве Само

3. Выберите годы правления монарха, которому принадлежит высказывание «А всё-таки, чтобы ни говорили обо мне, я жил и умру республиканцем».

- 1) 1801–1825 гг.
- 2) 1825–1855 гг.

- 3) 1855–1881 гг.
- 4) 1881–1894 гг.

Ответ

1	2	3
2	1	1

По 1 баллу за каждый верный ответ.

Всего 3 балла за задания 1–3.

В заданиях 4–6 выберите несколько верных ответов из предложенных.

4. Кто из перечисленных исторических деятелей принадлежит к основателям группы «Освобождение труда»?

- 1) В.Н. Игнатов
- 2) П.Б. Аксельрод
- 3) Н.Г. Чернышевский

- 4) К.Д. Кавелин
- 5) Л.А. Тихомиров
- 6) В.И. Засулич

5. Ниже приведён список исторических понятий (терминов, названий). Укажите те из них, которые связаны с эпохой руководства СССР Н.С. Хрущёва.

- 1) «Головокружение от успехов»
- 2) «антипартийная группа»
- 3) «кукурузная кампания»
- 4) «мирное сосуществование»
- 5) «Золотая пятилетка»
- 6) гласность

6. Какие из перечисленных положений были отражены в одном из программных документов декабристов – «Русской Правде» П.И. Пестеля?

- 1) федеративное устройство России
- 2) формирование двухпалатного Народного веча
- 3) освобождение крестьян с наделением их землей
- 4) формирование высшего органа исполнительной власти – Державной думы
- 5) ограничение избирательного права возрастным, имущественным, образовательным цензами и цензом оседлости
- 6) переходный период, во время которого власть будет принадлежать Временному революционному правлению

Ответ

4	5	6
126	234	34

Всего 6 баллов за задания 4–6.

7. В истории существует значительное число устойчивых фраз и выражений. Укажите, какое событие или явление обозначает каждое из приведённых выражений, и кратко объясните, почему данное событие или явление получило такое название.

- 1) «Министерская чехарда»
- 2) «Человек 16-го октября»

Ответ:

1) «Министерская чехарда» - смена министров в правительстве при Распутине

2) «Человек 16-го октября»

Всего 6 баллов.

8. По какому принципу образованы ряды? Дайте максимально точный ответ.

8.1. «Всякая всячина», «Трутень», «Почта духов», «Живописец».

8.2. 1801 г., 1826 г., 1856 г., 1883 г., 1896 г.

Ответ

8.1. сатирические журналы

8.2. императоры – начало правления императоров

По 2 балла за каждый верный ответ.

Всего 4 балла.

9. Расположите в хронологической последовательности создания публицистические сочинения. Ответы внесите в таблицу в бланке работы.

А) «Записка о древней и новой России»

Б) «История о великом князе Московском»

В) «О повреждении нравов в России»

Г) «Не могу молчать»

Д) «Книга о скудости и богатстве»

Ответ

1	2	3	4	5
Б	Д	А	В	Г

Всего 4 балла.

10. Расположите перечисленные аббревиатуры в хронологической последовательности их возникновения.

А) СЭВ

Б) БССР

В) ГКЧП

Г) ДРСМД

Д) ЛЕФ

Ответ.

1	2	3	4	5
Б	Д	А	Г	В

Максимум за задание – 4 балла.

11. Установите соответствие между литературными произведениями и писателями, их создавшими. Запишите в таблицу в бланке работы выбранные цифры под соответствующими буквами.

ПРОИЗВЕДЕНИЕ

ПИСАТЕЛЬ

- А) «Дворянское гнездо»
- Б) «Крейцера соната»
- В) «Дом с мезонином»
- Г) «Обыкновенная история»
- Д) «Леди Макбет Мценского уезда»

- 1) И.А. Гончаров
- 2) Н.В. Гоголь
- 3) Н.С. Лесков
- 4) И.С. Тургенев
- 5) А.П. Чехов
- 6) Л.Н. Толстой

Ответ=

А	Б	В	Г	Д
4	6	5	1	3

Всего 4 балла.

12. Установите соответствие между историческими деятелями и их прозвищами. Ответы внесите в таблицу в бланке работы.

ИСТОРИЧЕСКИЙ ДЕЯТЕЛЬ

ПРОЗВИЩЕ

- А) П.Я. Чаадаев
- Б) М.Д. Скобелев
- В) П.А. Шувалов
- Г) В.И. Ленин
- Д) А.Ф. Керенский

- 1) «Главноуговаривающий»
- 2) «Басманный философ»
- 3) «Белый генерал»
- 4) «Чёрный барон»
- 5) «Петр Четвёртый»
- 6) «Кремлёвский мечтатель»

Ответ

А	Б	В	Г	Д
2	3	5	6	1

Всего 4 балла.

13. Внимательно изучите таблицу и ответьте на вопросы после неё.

Число приказных изб в XVII в.

Район	1626	1633	1645	1656	1664	1677	1682	1698
Города западного района:	Число приказных изб							
псковские и новгородские	12	12	12	13	13	13	13	13
«от литовской Украины»	9	9	10	11	12	12	12	12
смоленские	—	1	—	8	8	7	5	5
северские	4	4	5	9	10	10	10	10
малороссийские	—	—	—	5	5	5	5	5
Итого	25	26	27	46	48	47	45	45

13.1. Дайте объяснение термину «приказная изба».

Ответ:

Орган управления на Руси при воеводах

13.2. Объясните, почему смоленская приказная изба существовала в 1633 г., тогда как в 1626 и 1645 гг. она не значится?

Ответ:

В 1633 году она была временно создана

13.3. Охарактеризуйте развитие системы приказных изб с 1626 по 1698 гг. в городах западного района Московского государства. Какой процесс отражают данные таблицы?

Ответ:

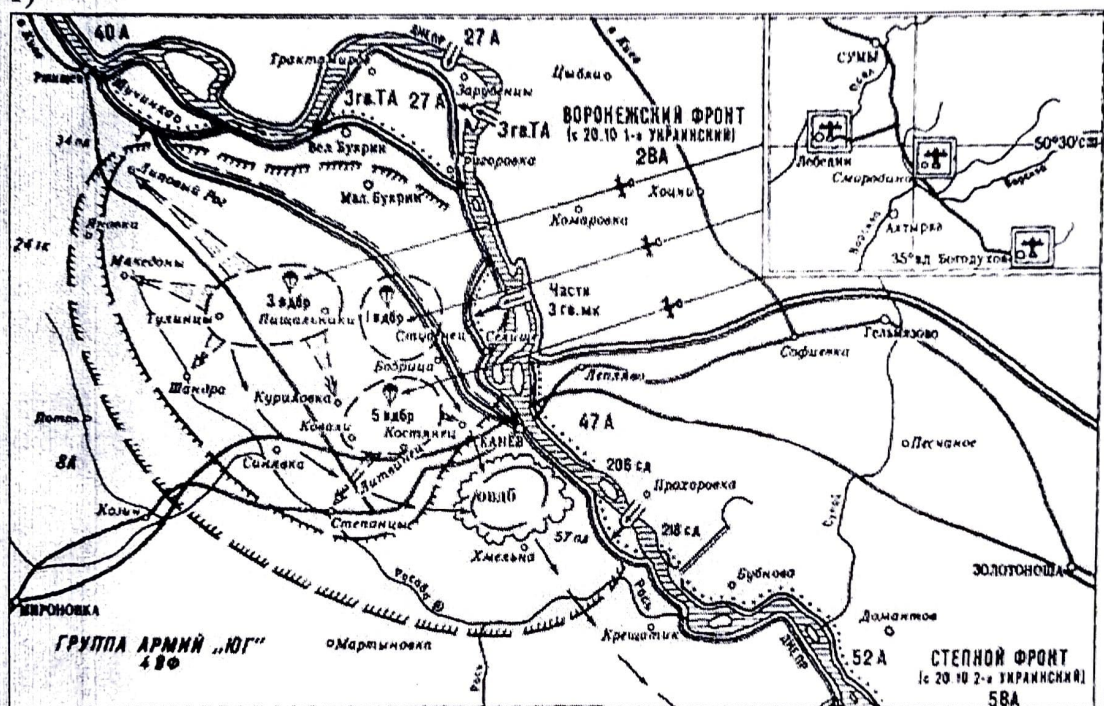
13.4. Основываясь на данных таблицы и на собственных знаниях, приведите три фактора, которые способствовали увеличению числа приказных изб в указанный период в данном регионе.

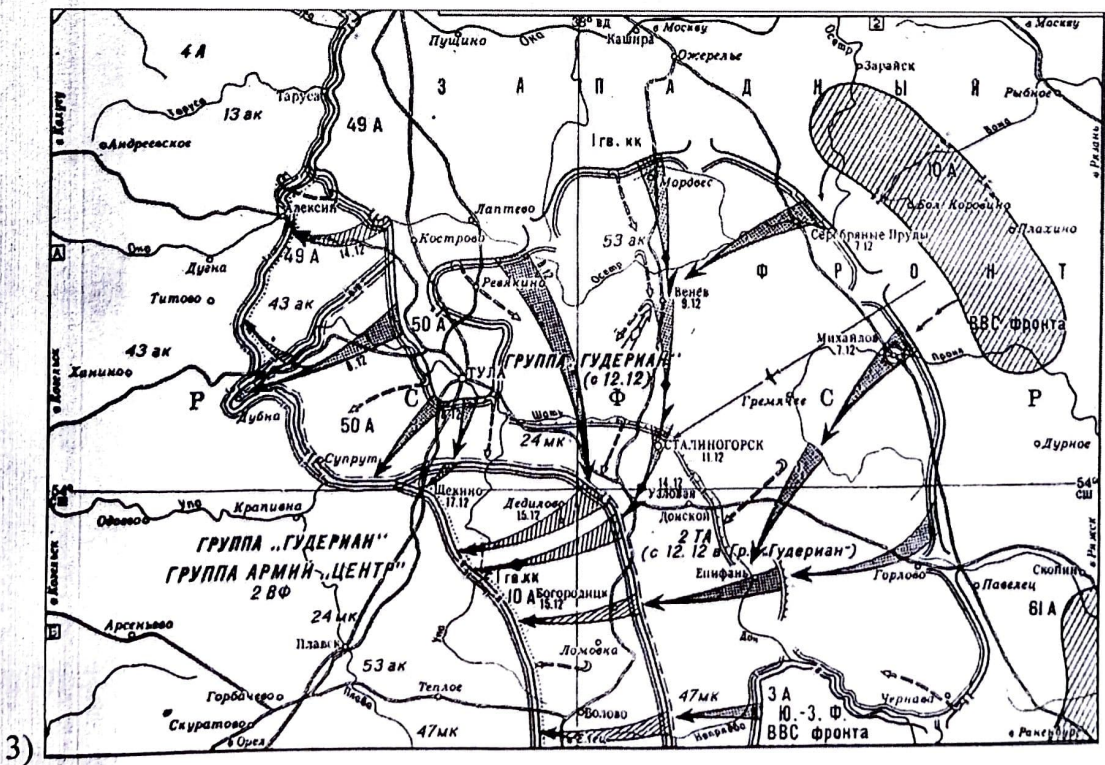
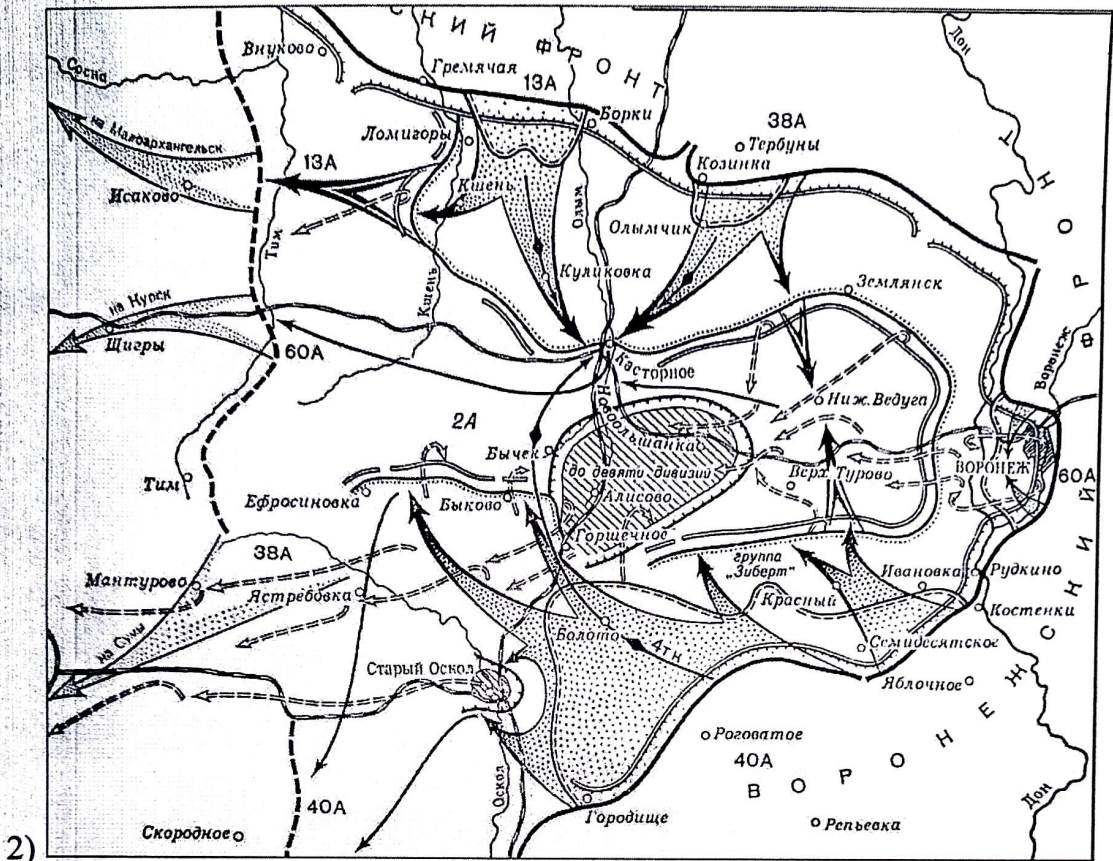
Ответ:

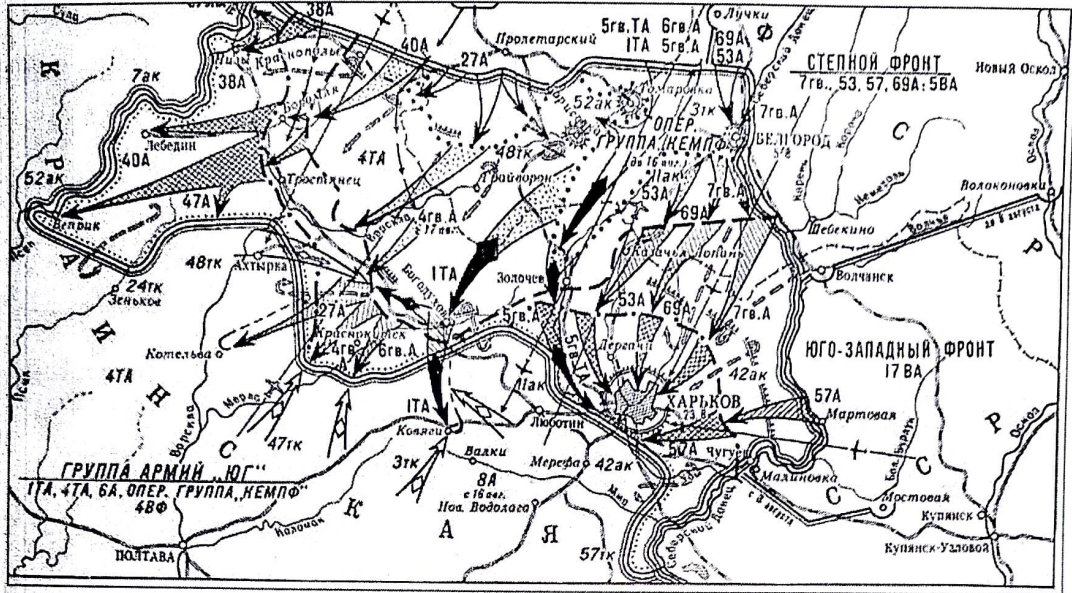
Всего 14 баллов.

14. Умение работать с картой (схемой) – один из навыков профессионального историка. Перед Вами схемы операций времен Великой Отечественной войны. Все они, кроме одной, относятся к одному и тому же году. Определите, что это за год и расположите номера операций в хронологическом порядке. Отдельно выпишите номер «лишней» схемы и укажите год, в котором проходили боевые действия, изображенные на ней.

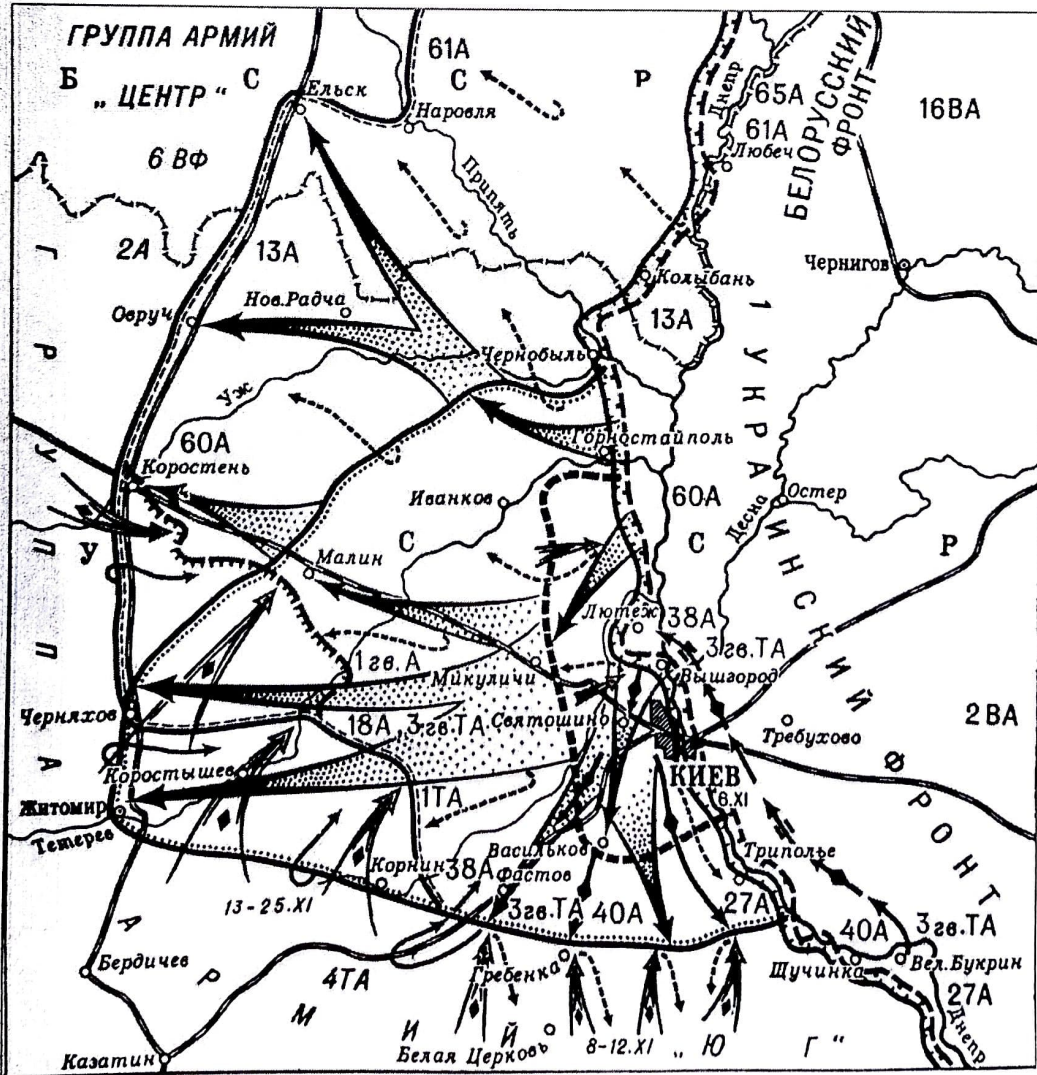
1)







4)



5)

Ответ:

№ карты				
---------	--	--	--	--

Год операций: 1944

«Лишняя» схема и год операции: _____


Всего 11 баллов.

15. Рассмотрите иллюстрации, на которых изображены важнейшие события в истории нашей страны. Заполните таблицу, указав во втором столбце год(ы) событий, которым посвящены изображения, в третьем столбце – название этих событий. В четвёртый столбец таблицы внесите цифровое обозначение характеристики политического деятеля истории зарубежных стран, который занимал указанное в описании положение на момент событий, изображённых на иллюстрациях. В данном случае современником признается тот, кто занимал указанное в описании положение на момент событий, изображённых на картинах. (Обратите внимание: в списке представлено больше характеристик, чем предложено иллюстраций).

А)



B)



B)



Г)





	Характеристика исторического деятеля
1	Маршал Франции, известный кавалерист, король Неаполитанского королевства
2	Последний император Китая из династии Цин
3	Полководец, основатель империи Тимуридов со столицей в Самарканде
4	Прусский король, выдающийся военный деятель и реформатор эпохи Просвещения
5	Основатель испанской инквизиции, инициатор преследования мавров и евреев
6	Последний король Речи Посполитой, свидетель всех разделов Польши
7	Римский богослов, «Блаженный», написал автобиографическую «Исповедь»
8	Латиноамериканский революционер, команданте Кубинской революции
9	Выдающийся полководец Священной Римской империи, генералиссимус, участник войны за испанское наследство
10	Итальянский граф, деятель Рисорджименто, первый премьер-министр Италии

Ответ.

Буквенное обозначение изображения	Год изображаемого события	Событие	Цифровое обозначение современника
А	1380	Поединок Пересвета с Челубеем	2
Б	1480	Стояние на реке Угре	6
В		Штурм крепости Измаил	9
Г			4
Д			1

Максимум за задание – 10 баллов.

16. Перед Вами отрывки из документов, принятых на партийных съездах РСДРП/РКП(б)/ВКП(б)/КПСС. Расположите эти отрывки в хронологической последовательности и укажите номер съезда и год, когда они были приняты.

А) «Приняв новую Программу партии, съезд перед всем миром провозгласил, что народы Советского Союза во главе с Коммунистической партией высоко поднимают знамя борьбы за коммунистические идеалы. Построение коммунистического общества стало практической задачей партии и народа».

Б) «Есть другая генеральная линия, исходящая из того, что мы должны приложить все силы к тому, чтобы сделать нашу страну страной экономически самостоятельной, независимой, базирующейся на внутреннем рынке, страной, которая послужит очагом для притягивания к себе всех других стран, вливающих в русло социалистического хозяйства. Эта линия требует максимального развёртывания нашей промышленности».

В) «Перед государством сейчас стоит определенная продовольственная обязанность. Поэтому наша развёрстка в прошлом году была увеличена. Налог должен быть меньше. Всё дело в том, чтобы дать крестьянам стимул быть за Советскую власть, побудитель и с точки зрения экономики».

Г) «Выражением глубокого осознания партией принципиально новой ситуации внутри страны и на мировой арене, своей ответственности за судьбы Родины, проявлением её воли и решимости осуществить назревшие преобразования стала выдвинутая апрельским Пленумом установка на ускорение социально-экономического развития нашего общества».

Д) «Первые шаги русского рабочего движения и русской социал-демократии не могли не быть разрозненными, в известном смысле случайными, лишенными единства и плана. Теперь настала пора объединить местные силы, кружки и организации русской социал-демократии в единую «Российскую Социал-Демократическую Рабочую Партию».

Е) «Товарищи! Нам нужно решительно, раз и навсегда развенчать культ личности, сделать надлежащие выводы в области идейно-теоретической работы. Необходимо по-большевистски осудить и искоренить как чуждый

духу марксизма-ленинизма и несовместимый с принципами партийного руководства и нормами партийной жизни культ личности».

Ответ:

Буква	Д	Е	Г	В	Б	А
№ съезда и год	1 съезд 1900	20 съезд 1956	21 съезд 1961	10 съезд 1921	25 съезд 1976	27 съезд 1986

Всего 18 баллов.

17. Перед Вами отписка нижегородских воевод Александра Андреевича Репнина и Андрея Семеновича Алябьева о военных событиях в крае на исходе 1608 года. Напишите на его основе небольшую работу на тему «Действия местных властей русского государства в условиях Смутного времени».

Отписка нижегородских воевод Александра Андреевича Репнина и Андрея Семеновича Алябьева о военных событиях в крае на исходе 1608 года.

По государеву цареву и великого князя Василья Ивановича всеа Русии указу в Муром и Муромской уезд архимаритом, игуменом и протопопом и попом и дьяконом, и дворяном и детем боярским и приказным людем, и государевых дворцовых сел и деревень старостам и целовальником и всем крестьянам: из Нижнево Нова города воеводы князь Александр Ондреевич Репнин, Ондрей Семенович Олябьев, дьяк Василей Семенов велели по городам говорити: в нынешнем во 117-м году, декабря в 2 день воеводы князь Александр Ондреевич Репнин, Ондрей Семенович Олябьев, дьяк Василей Семенов приговорили итти на Балахну с воеводою с Ондреем Семеновичем Олябьевым дворяном и детем боярским и головам стрелецким и немцом и литве и турчаном с волошаны и сербяны и со всякими иноземцы многих приказов з головами и с сотники, с стрелцы и с казаки и с вольными с охочими новоприборными казаки и с посадскими со всякими людми и с понизовою силою, которых прислал с Казани боярин и воевода Федор Иванович Шереметев с товарищи, писмяных и татарских и стрелецких и казацких голов, а с ними дворян и детей боярских и татар и башкирцов и стрелцов и казаков и всяких ратных людей.

И Божию милостию и Пречистые Богоматери и Московских чудотворцов помощию и государевым счастьем воевода Ондрей Семенович Олябьев под Балахною воров побиши, а балахонского воеводу Степана Голенищева и лутчих балахонских посадцких людей: Василья Кухтина, Олексея Суровцова, Степана Маркованиных, многих лутчих людей привели в Нижней, а которые воры ко кресту приводили – атамана Тимоху Таскаева и детей боярских: Елизарья Редрикова, Семена Долгово, Луку Синева, Ивана Гривенкова с товарищи, поймав, привели в Нижней и наряд у них взяли, и знамена и набаты, а балахонцы посадцкие и всякие люди государю царю и великому князю Василью Ивановичу всеа Русии вины свои принесли и ему, Государю, да били челом и крест целовали.

Да декабря в 5 день приходили к Нижнему воровские люди: нижегородцы и арзамасцы, дети боярские и татаровя и черемиса и всякие

подымные люди, к Нижнему приступали и Божию милостию и Пречистые Богородицы и Московских чудотворцов помощью и государевым счастьем на выласке воевода Ондрей Семенович Олябьев з дворяны и з детми боярскими и з головы стрелецкими, с литвою и с немцы и с нижегородцы с посадцкими с охочими со всякими служилыми людми воров в Нижнем всех побили и языков поймали болши трех сот человек, а побивали их, воровских людей, на пятнатцати верстех и болши, а знамена и набаты поймали, а ушло тех воровских людей не много врознь потому, что стала ночная пора и государевы люди пришли в Нижней дал Бог здоровы.

Да декабря ж в 10 день воевода Ондрей Семенович Олябьев, а с ним дворяны и дети боярские и головы стрелецкие, и литва и немцы и казаки и башкирцы и всякие ратные люди, ходили на воров к селу Ворсме и, не доходя села Ворсмы за пять верст, воровских людей на дву дорогах побили многих, а иных живых поймали и, побив, село Ворсму зажгли.

И ныне мы на вас хотим идти с великим собраньем с ратными людми, будет вы на истинный путь не обратитесь и государю царю и великому князю Василью Ивановичу всеа Руси креста целовать не учнете и воров, литовских людей, не переимаете и с повинными челобитными не пришлете. И воевода Ондрей Семенович Олябьев со многою ратью будет на вас и велит вас воевать, а жен и детей в полон имати.

Да декабря ж в 11 день приходили к селу Павлову воры, литва и мордва и бортники и сотники стрельцы и подымные люди. И воевода Ондрей Семенович Олябьев з головами и з детми боярскими и с сотники стрелецкими и с посадцкими со всякими тех воров побили наголову, и знамена у них взяли, языков многих поймали.

План работы

1. Постановка проблемы: характеристика исторических обстоятельств, фактов, вызвавших появление документа. Приведите не менее трёх положений.
2. Характеристика источника и возможностей, которые он даёт для освещения темы. Приведите не менее трёх положений.
3. Анализ ситуации, сложившейся в Российском государстве на исходе 1608 года, на примере Нижегородского края. Приведите не менее трёх положений.
4. Выводы: Оценка действия местных властей русского государства в условиях Смутного времени.

Всего 20 баллов.

18. Вам предстоит работать с высказываниями историков и современников о событиях и деятелях отечественной истории. Выберите из них одно, которое станет темой Вашего сочинения-эссе. Ваша задача – сформулировать собственное отношение к данному утверждению и обосновать его аргументами, представляющимися Вам наиболее существенными. При выборе темы исходите из того, что Вы:

- 1) ясно понимаете смысл высказывания (не обязательно полностью или даже частично быть согласным с автором, но необходимо понимать, что именно он утверждает);
- 2) можете выразить своё отношение к высказыванию (аргументированно согласиться с автором либо полностью или частично опровергнуть его высказывание);
- 3) располагаете конкретными знаниями (факты, статистические данные, примеры) по данной теме;
- 4) владеете терминами, необходимыми для грамотного изложения своей точки зрения.

При написании работы постарайтесь исходить из того, что жюри, оценивая Ваше эссе, будет руководствоваться следующими критериями:

- 1) обоснованность выбора темы (объяснение выбора темы и задач, которые ставит перед собой в своей работе участник);

- 2) грамотность использования исторических фактов и терминов;
- 3) чёткость и доказательность основных положений работы;
- 4) знание различных точек зрения по избранному вопросу;
- 5) наличие обоснованных выводов, соответствующих поставленным участником задачам.

Темы

1. «Значительно раньше IX века на Руси созрели необходимые для образования государства предпосылки, успевшие дать определённые результаты. Объединение Новгорода и Киева – это важное событие в истории Руси, но отнюдь не начальное, а вытекающее из всей предшествующей истории Руси» (**Б.Д. Греков**)
2. «XII век в русской истории был отмечен не только феодальным дроблением, но и настойчивыми попытками сохранять единство Руси в новых условиях. Политика Владимира Мономаха с этой точки зрения... стремилась «оздоровить» сложившуюся ситуацию» (**Д.С. Лихачев**)
3. «Основной смысл опричных преобразований сводился к завершающему удару, который был нанесен последним оплотам удельной раздробленности. <...> Ликвидация удела Владимира Старицкого и разгром Новгорода подвели в этом финальную черту» (**А.А. Зимин**)
4. «Реформа Петра Великого была и совершенно неизбежно подготовлена предшествующими процессами и вместе с тем насильственна, была революцией сверху... Только в России мог появиться такой необычайный человек. Русскими чертами в нем были – простота, грубость, нелюбовь к церемониям, условностям, этикету, своеобразный демократизм, любовь к правде, любовь к России» (**Н.А. Бердяев**)
5. «Екатерина была...самым успешным реформатором во всей истории российского реформаторства, ибо ей удалось почти полностью реализовать задуманное...без риска нарушения политической стабильности» (**А.Б. Каменский**)
6. «Опасность нового дворцового переворота являлась мощным фактором, определявшим внутреннюю политику Александра. Но оставлять все по-прежнему, как того требовали крепостники, уже было нельзя. В сложившихся условиях Александр пошел на минимум преобразований в социально-экономической области» (**М.М. Сафонов**)
7. «Александр вынужденно, оказавшись перед фактом жестокого поражения в войне и всеобщего недовольства в стране, взял за основу либеральную программу...реформирования страны, но, не будучи сам либералом по убеждениям, в конечном счете, подчинил проведенные преобразования интересам сохранения самодержавия» (**Л.Г. Захарова**)
8. «Конституционный период империи до Первой мировой войны стал во многом самым успешным ее периодом. Но под покровом достигнутого в 1905–1907 гг. компромисса скрытое противостояние власти и оппозиции сохранилось» (**Н.В. Минаева**)

