

**ВСЕРОССИЙСКАЯ ОЛИМПИАДА ШКОЛЬНИКОВ  
ПО ИСТОРИИ.**

**МУНИЦИПАЛЬНЫЙ ЭТАП. 8 КЛАСС**

Продолжительность: 180 минут.

*В заданиях 1–3 дайте один верный ответ.*

1. Укажите год издания документа, отрывок из которого представлен ниже.

«1. Конгресс не должен издавать законов, устанавливающих какую-либо религию или запрещающих ее свободное исповедание, ограничивающих свободу слова или печати или право народа мирно собираться и обращаться к правительству с петициями об удовлетворении жалоб. 4. Право народа на охрану личности, жилища, бумаг и имущества от необоснованных обысков и арестов не должно нарушаться; ни один ордер не должен выдаваться иначе как при наличии достаточного основания, и он должен быть подтвержден присягой или торжественным заявлением и содержать подробное описание места, подлежащего обыску, личностей или предметов, подлежащих аресту (...).»

- |            |            |
|------------|------------|
| 1) 1628 г. | 3) 1714 г. |
| 2) 1674 г. | 4) 1791 г. |

2. Прочитайте отрывок из исторического источника и укажите государя, о котором идёт речь в отрывке.

«Царица и великая княгини Мариа преставися. Того же году **государь** женися третьим браком, понял дочь Василья Собакина Марфу, с полгоду жива не была и преставися. Того же году и мор был силен по всей Русской земли, а государь тогда жил в своем селе в слободе Александровской...»

- |                  |                       |
|------------------|-----------------------|
| 1) Иван IV       | 3) Алексей Михайлович |
| 2) Борис Годунов | 4) Пётр I             |

3. Укажите имя государственного деятеля, властные полномочия которого закреплял документ, фрагмент которого приведен ниже.

«1. Что верховная законодательная власть свободного государства Англии, Шотландии и Ирландии... сосредоточивается и пребывает в одном лице и народе, представленном в парламенте; титул названного выше лица называется “лорд-протектор свободного государства Англии, Шотландии и Ирландии”.»

- |                  |                 |
|------------------|-----------------|
| 1) Дж. Уинстенли | 3) Дж. Лильберн |
| 2) Б. Франклин   | 4) О. Кромвель  |

**Ответ**

1	2	3
3	1	4

**По 2 балла за каждый верный ответ.**

**Всего 6 баллов за задания 1–3.**

**В заданиях 4–5 выберите несколько верных ответов из предложенных.**

4. Кто из перечисленных ниже деятелей культуры был живописцем?

- |              |                 |
|--------------|-----------------|
| 1) Д. Дефо   | 4) Н. Пуссен    |
| 2) А. Ватто  | 5) Ж.-Б. Шарден |
| 3) Ф. Шиллер | 6) Ф. Бэкон     |

5. Ниже приведён список названий государств. Укажите те из них, которые существовали в Европе к началу XVIII века.

- |               |              |
|---------------|--------------|
| 1) Португалия | 4) Испания   |
| 2) Латвия     | 5) Болгария  |
| 3) Белоруссия | 6) Швейцария |

**Ответ**

	4	5
	<i>2</i>	<i>4</i>

**Всего 6 баллов за задания 4, 5.**

6. Перед Вами перечень правителей, правивших в трёх различных государствах. Укажите названия этих государств, занесите данную информацию в таблицу. Под названиями государств поставьте цифровые обозначения соответствующих правителей.

- 1) Людовик IX Святой
- 2) Ричард I Львиное Сердце
- 3) Владислав II Ягелло
- 4) Карл VIII Любезный
- 5) Болеслав I Храбрый
- 6) Филипп II Август
- 7) Джон Безземельный
- 8) Генрих VIII
- 9) Казимир III Великий

**Ответ**

Страна	<i>Англия</i>	<i>Франция</i>	<i>Королевство Польши</i>
Событие	<i>178</i>	<i>146</i>	<i>359</i>

**Всего 12 баллов.**

7. Дайте краткое обоснование ряда (что объединяет перечисленные элементы) и укажите, какой из элементов является лишним по данному основанию.



7.1. Долгий парламент, Великая ремонтрация, декрет «Отечество в опасности!», сражение при Нейзби, казнь короля Карла I.

7.2. Ж-Ж. Руссо, Ш-Л. Монтескье, Вольтер, Д. Дидро, М. Робеспьер.

Ответ:

7.1. английская революция, также декрет «Отечество в опасности!»

7.2. французские философы, также Робеспьер.

По 3 балла за каждый верный ответ.

Всего 6 баллов.

8. По какому принципу образованы ряды? Дайте максимально точный ответ.

8.1. Река Днепр, река Ловать, озеро Ильмень, река Волхов.

8.2. Аристотель Фиораванти, Пьетро Антонио Солари, Марко Руффо, Алевиз Новый.

Ответ:

8.1. масштабные битвы и сражения

8.2. известные ученые изобретатели.

По 2 балла за каждый верный ответ.

Всего 4 балла.

9. Установите соответствие между событиями отечественной и зарубежной истории, произошедшими в том же веке. Ответы оформите в виде таблицы, записав выбранные цифры под соответствующими буквами.

СОБЫТИЕ ОТЕЧЕСТВЕННОЙ ИСТОРИИ	СОБЫТИЕ ЗАРУБЕЖНОЙ ИСТОРИИ
А) присоединение Ярославля к Московскому государству	1) Варфоломеевская ночь во Франции
Б) Тверское восстание	2) Вестфальский мирный договор
В) Переяславская рада	3) издание Иоганном Гутенбергом первой книги
Г) битва при Молодях	4) запрет деятельности ордена тамплиеров во Франции
	5) открытие Болонского университета



**Ответ:**

	<b>А</b>	<b>Б</b>	<b>В</b>	<b>Г</b>
	3	4	2	1

**По 2 балла за каждое верное соотнесение.**

**Всего 8 баллов.**

**10.** Установите соответствие между архитектором и построенным по его проекту сооружением. Ответы оформите в виде таблицы, записав выбранные цифры под соответствующими буквами.

**АРХИТЕКТОР**

**СООРУЖЕНИЕ**

А) И.П. Зарудный

1) Дом Пашкова

Б) И.Е. Старов

2) Меншикова башня

В) В.И. Баженов

3) Таврический дворец

Г) Ф.Б. Расстрелли

4) здание Главного штаба

5) Зимний дворец

**Ответ:**

	<b>А</b>	<b>Б</b>	<b>В</b>	<b>Г</b>
	5	3	1	2

**По 2 балла за каждое верное соотнесение.**

**Всего 8 баллов.**

**11.** Заполните пропуски в тексте. При необходимости при порядковых номерах даются пояснения о характере требуемой вставки. Ответы оформите в виде таблицы, вписав в неё под соответствующими номерами необходимые вставки.

В 1757 году Россия вступила в войну, позже названную (1), на стороне Франции и (2 – название государства). Противник России, Пруссия, которую возглавлял (3 – имя монарха), воспринимался императрицей Елизаветой Петровной как личный враг.

Первую крупную победу над прусской армией русские войска одержали

в 1757 году в битве при (4 – название населенного пункта). И уже в начале следующего года был занят (5 – название города), жители которого (среди них был знаменитый философ И. Кант) присягнули императрице. Однако дальнейшее продвижение армии по территории Восточной Пруссии было поначалу не столь успешным. Исход битвы при (6 – название населенного пункта), состоявшейся в августе 1758 года, оказался неопределенным, ни русской, ни прусской стороне не удалось одержать победу.



Однако уже в следующем году, в битве при (7 – название населенного пункта), русские войска под командованием генерал-фельдмаршала (8 – имя военачальника) совместно с войсками (2) нанесли поражение армии (3). Далее, в 1760 году русские войска совместно с союзниками взяли (9 – название города), ключи от которого получил генерал-поручик (10 – имя военачальника), будущий президент Военной коллегии и московский генерал-губернатор.

Несмотря на столь впечатляющие успехи, эта война не принесла России ничего, кроме славы оружия ее воинов: в 1762 году новый российский император Петр III заключил сепаратный мирный договор со своим кумиром (3), по условиям которого Россия не получала новых территорий и отказывалась от контрибуции со стороны Пруссии.

**Ответ:**

1	третье Силезское
2	Великобритания
3	Фридрих I
4	
5	
6	
7	
8	Апраксин
9	
10	

**По 1 баллу за каждую верную вставку.  
Всего 10 баллов.**



12. Рассмотрите представленную схему и выполните предложенные задания.



12.1. Заполните пропуски в предложениях. Ответы внесите в таблицу.

1. Представленные на схеме границы русского государства сложились к концу правления\_\_\_\_\_.
2. Цифрой \_\_ на схеме отмечена столица русского княжества, присоединённого к Московскому государству в границах, обозначенных на схеме, в последнюю очередь.
3. Цифрой\_\_на схеме отмечен город, в котором в 1136 году свершилась «боярская революция», результатом которой стало установление республиканской формы власти.
4. Цифрой\_\_на схеме обозначено княжество, давний соперник Москвы, которое, согласно летописи, было присоединено к Московскому государству «изменой боярской».
5. Город, обозначенный на схеме цифрой\_\_, был известен с X века под названием «Дебрянск» из-за глухих лесов, окружавших его.



6. Цифра \_\_\_ на схеме обозначает «Верховские княжества», то есть княжества, располагающиеся в верховьях реки Оки.

7. Цифра \_\_\_ на схеме обозначает столицу земли, где, согласно летописи, правил брат Рюрика – Синеус.

**Ответ.**

Задание	Ответ
1	
2	
3	
4	
5	
6	
7	

**По 1 баллу за каждый верный ответ.**

**Всего 7 баллов.**

**12.2.** Установите истинность или ложность суждения. Обозначьте «да» истинные суждения; «нет» – ложные суждения. Ответы внесите в таблицу.

1. Город, обозначенный на схеме цифрой «11», был основан Юрием Долгоруким.

2. Город, обозначенный на схеме цифрой «1», вошёл в состав Московского княжества при князе Василии Тёмном.

3. Земля, обозначенная цифрой «2», была разграблена крестоносцами в первой половине XII века.

4. Город, обозначенный на схеме цифрой «7», являлся местом сбора русских войск перед стоянием на реке Угре.

5. Для взятия города, обозначенного на схеме цифрой «13», была построена крепость Свияжск.

**Ответ.**

Задание	Ответ
1	
2	
3	
4	
5	

**По 1 баллу за каждый верный ответ. Всего 5 баллов.**  
**Максимум за задание 12 баллов.**




13. Рассмотрите изображения и выполните задания. Ответы впишите в бланк работы.



1. Укажите название картины, её автора.
2. В правление какого российского монарха произошли события, изображенные на картине? Назовите годы его правления.
3. Из предложенных ниже изображений выберите относящиеся к правлению монарха, имя которого Вы указали в пункте 2, и запишите их номера. Дайте объяснение Вашему выбору.

1.







2.



3.



4.





5.



6.



CoinsPlanet.ru

**ОТВЕТЫ**

1. Суржикот "Утро стрелецкой казни"

2. импр I 1672-1725



3. 1

**Всего 14 баллов.**

**14.** Внимательно изучите представленный ниже отрывок из документа и ответьте на вопросы к нему.

«Великому государю царю и великому князю <...> и Малыя и Белыя Росии самодержцу холоп твой <...> челом бьет.

В нынешнем 204-м году по твоему, великого государя царя и великого князя <...> Росии самодержца, указу велено мне, холопу твоему, быть на твоей, великого государя, службе в низовом Озовском походе з большим полком с твоими, великого государя, ратными с конными и пешими людьми для промыслу и поиску над турецким городом Азовом морским и сухим пути.

И по тому твоему, великого государя, указу я, холоп твой, с твоими, великого государя, ратными с конными и пешими людьми пришел к Азову июня в 7-м числе и стал, устроясь обозом, воинским ополчением от Азова в ближних местех.

И за божиею поспешествующею помощию с того числа над тем городом Азовом промысл и поиск чинитца со всяким желательным радетельством. Немедленно тот город Азов осажден накрепко, въезду и выезду в него и из него нет, сухие и воденые пути, море и устья донские все заперты московского морского корована судами, а на них многочисленными твоими, великого государя, ратными людьми и пушками те неприятельские пути отняты»

**14.1.** Назовите адресат письма.

**14.2.** Назовите автора письма.

**14.3.** Датируйте письмо с точностью до года.

**14.4.** Какова цель создания данного письма?

**14.5.** Какие виды войск приняли участие в походе? Как проходила осада города? Представьте ответ с опорой на текст источника.

**14.6.** В чём важность похода, о котором говорится в письме? Представьте развёрнутый ответ на поставленный вопрос.

Ответ:

14.1. Петр I

14.2. Шены

14.3. 1696

14.4. отчет о походе государю

14.5. лешее войско, конные, артиллерия, флот

14.6. Выход к Черному морю Канеи для России. Через него  
можно осуществлять торговлю, но еще был Канеи, чтобы  
найти <sup>судов</sup> суды до выхода в Балтийское море.  
Всего 18 баллов.

Всего за работу – 104 балла.