

Таблица ответов на тестовые задания теоретического тура

Номер теста	Верный ответ	Номер теста	Верный ответ
1	В	11	А
2	Б	12	БГ
3	В	13	БГ
4	Г	14	БД
5	А	15	ВГ
6	Б	16	АБ
7	Г	17	БВД
8	А	18	АБВ
9	Б	19	АБ
10	Б	20	БВД

Максимум за тестовые задания 60 баллов.

Теоретические задания

Задание 1

Перечислите, состоящие из десяти пунктов, рекомендации безопасного поведения при общении с незнакомыми людьми.





- 1) Не рассказывать историю и информацию
- 2) Не давать ценные вещи (телефоны, драгоценности)
- 3) Не ходить с ними никуда. Да и не
- 4) Не верить, если он обещает подарить или купит что-то
- 5) Не вступать в контакт (разговор)
- 6) Если незнакомец внезапно берет за руку (или любое другое место) можно нанести ему удар
- 7) Не брать вещи у незнакомца
- 8) Нельзя уходить из школы/садика с незнакомцем
- 9) Нельзя проводить с ним время
- 10) Не ходить по безлюдным местам в одиночку

Задание 2

Впишите в таблицу смысловое значение знаков безопасности.

Запрещающий знак	Смысловое значение запрещающего знака
	Запрещено загромождать проход
	
	Медицинский пункт
	Запрещается движение капального транспорта
	
	

Всероссийская олимпиада школьников по ОБЖ
Муниципальный этап. 10–11 классы

	Запрещен сбор воды и использование в качестве питьевой воды
	Находиться без средств защиты запрещено
	Запрещено разбрызгивать воду
	Сбор воды

Задание 3

Укажите войсковые воинские звания высших офицеров Вооружённых Сил Российской Федерации и расположите их в порядке возрастания старшинства.

Задание 4

Инфекционные болезни – это заболевания, вызываемые болезнетворными микроорганизмами, которые передаются от заражённого человека или животного к здоровому. Способ перемещения возбудителя инфекционного заболевания от источника инфекции в восприимчивый организм человека или животного называется механизмом передачи инфекции. Механизм передачи может быть реализован различными путями.

Заполните таблицу.

А) Дополните столбцы таблицы («Локализация возбудителя», «Механизм передачи инфекции», «Пути передачи инфекции») соответствующей информацией.

Б) Внесите номер инфекционного заболевания в зависимости от локализации возбудителя из предложенного ниже перечня в столбец таблицы «Номер инфекционного заболевания».

Инфекционные заболевания:

1. Грипп
2. Дизентерия
3. Микоз поверхностный
4. Клещевой энцефалит

Локализация возбудителя	Механизм передачи инфекции	Пути передачи инфекции	Номер инфекционного заболевания
1. Желудочно-кишечный тракт	Фекально-оральный (желудочно-кишечный)		3
2. Дыхательная система	воздушно-капельный путем	1. Капельный Пылевой	2
3. Мерцательная система	Трансмиссивный	Укусы кровососущих насекомых	4
4. Кожа и слизистые оболочки	воздушно-капельный путем	1. Прямой 2. Непрямой	1

Максимальная оценка за работу – 100 баллов.