







7-3

Всероссийская олимпиада школьников по ОБЖ
Муниципальный этап. 7–8 классы

6. **Скорость урагана достигает**
а) 110 км/ч
б) 101 км/ч
в) 62 км/ч
г) 120 км/ч
7. **Вязка какого узла изображена на рисунке?**
а) бабьего
б) прямого
в) фламандского
г) дубового
- 
8. **Верны ли приведённые суждения?**
А) Никотин является опасным растительным ядом.
Б) Никотин в малых дозах возбуждает, а в больших дозах тормозит деятельность клеток центральной нервной системы
а) верно только А
б) верно только Б
в) верны оба суждения
г) оба суждения неверны
9. **Какой признак указывает на повреждение спинного мозга при травме позвоночника?**
а) рана в области позвоночника
б) кровоизлияние в области позвоночника
в) резкая боль в области позвоночника
г) отсутствие движения в конечностях ниже места повреждения
10. **Какое мероприятие первой помощи выполняют при отсутствии у пострадавшего сознания (при наличии пульса и дыхания)?**
а) приподнимают ноги
б) проводят компрессии на грудную клетку
в) выполняют сердечно-лёгочную реанимацию
г) переводят пострадавшего в устойчивое боковое положение


Задание 2

Укажите знаком «+» в крайнем левом или крайнем правом столбце, какие из ситуаций, изображённых на картинках, относятся к опасным, а какие к экстремальным?

Опасная ситуация	Изображение	Экстремальная ситуация
+		
		+
+		
		+
+		

Тестовые задания

Определите один правильный ответ.
За правильный ответ начисляется 2 балла.

- 1. Что означает следующий символ, используемый в международной кодовой таблице сигналов бедствия?**
а) нужны медикаменты
б) нужны оружие и боеприпасы
в) нужны компас и карты
г) нужны продовольствие и вода
- 
- 2. На компасе Адрианава азимут на север равен**
а) 90°
б) 360°
в) 180°
г) 270°
 - 3. При утечке газ пропан**
а) поднимается вверх
б) опускается вниз
в) стелется по земле
г) растворяется в воздухе
 - 4. Как расшифровывается аббревиатура «МЧС»?**
а) Министерство Российской Федерации по делам гражданской обороны, чрезвычайным ситуациям и ликвидации последствий стихийных бедствий
б) Министерство России по делам гражданской обороны, чрезвычайным ситуациям и ликвидации последствий стихийных бедствий
в) Министерство Российской Федерации по чрезвычайным ситуациям и ликвидации последствий стихийных бедствий
г) Министерство России по делам гражданской обороны и ликвидации последствий стихийных бедствий
 - 5. Для чего применяется дезинсекция?**
а) для удаления радиоактивных веществ
б) для удаления опасных и токсических химических веществ
в) для уничтожения насекомых – переносчиков инфекционных заболеваний
г) для уничтожения грызунов – переносчиков инфекционных заболеваний

Определите все правильные ответы.

За каждый правильный ответ начисляется 2 балла.

11. **Что из перечисленного относится к личному снаряжению в туристическом походе?**
- а) рюкзак
 - б) палатка
 - в) тент
 - г) котелок
 - д) кружка
12. **Какое смысловое значение несёт красный цвет, используемый в знаках безопасности?**
- а) непосредственная опасность
 - б) аварийная или опасная ситуация
 - в) возможная опасность
 - г) предписание во избежание опасности
 - д) указание
13. **К относительно безопасным бытовым химикатам можно отнести**
- а) стиральные порошки
 - б) отбеливающие средства
 - в) мыло
 - г) растворители
 - д) препараты для борьбы с насекомыми
14. **По причинам возникновения чрезвычайные ситуации подразделяют на**
- а) экологические
 - б) технологические
 - в) социальные
 - г) дорожные
 - д) криминальные
15. **При падении в толпе в первую очередь необходимо:**
- а) как можно быстрее встать
 - б) постараться на четвереньках отползти в укрытие
 - в) защитить голову руками
 - г) защитить подручными предметами живот
 - д) поднять руку, привлекая внимание

16. **К видам наводнений относятся**
- а) ветровой нагон
 - б) зажор
 - в) сильный тягун
 - г) низкие уровни воды
 - д) осенний тягун
17. **Какие действия запрещается выполнять при ожоге конечности с повреждением целостности кожи?**
- а) отрывать прилипшую одежду
 - б) охлаждать, приложив холод через стерильную (чистую) ткань
 - в) охлаждать под струёй воды
 - г) накладывать нетугую повязку
 - д) давать питьё
18. **Какие календари профилактических прививок утверждены Министерством здравоохранения РФ?**
- а) календарь путешественников
 - б) национальный календарь
 - в) профессиональный календарь
 - г) по эпидемическим показаниям
 - д) детский календарь
19. **Какие признаки характерны для гипотермии средней степени тяжести (температура тела 30–34 °С)?**
- а) мышечное окоченение
 - б) озноб, мышечная дрожь
 - в) замедление сердечного ритма
 - г) учащение сердечного ритма
 - д) возбуждение, беспокойство
20. **Какие из перечисленных средств отсутствуют в аптечке первой помощи (автомобильной), но входят в состав аптечки для оказания первой помощи работникам?**
- а) жгут кровоостанавливающий
 - б) медицинские перчатки
 - в) устройство для проведения искусственного дыхания «рот–устройство–рот»
 - г) покрывало спасательное изотермическое
 - д) маска медицинская трёхслойная

Всероссийская олимпиада школьников по ОБЖ
Муниципальный этап. 7–8 классы

Таблица ответов на тестовые задания теоретического тура

Номер теста	Верный ответ	Номер теста	Верный ответ
1	г	11	а, г, д
2	а	12	г
3	б	13	а, б
4	а	14	б
5	б	15	д
6	г	16	б, д
7	а	17	а
8	б	18	б
9	б	19	б
10	б	20	г, д

Максимум за тестовые задания 60 баллов.

Теоретические задания

Задание 1

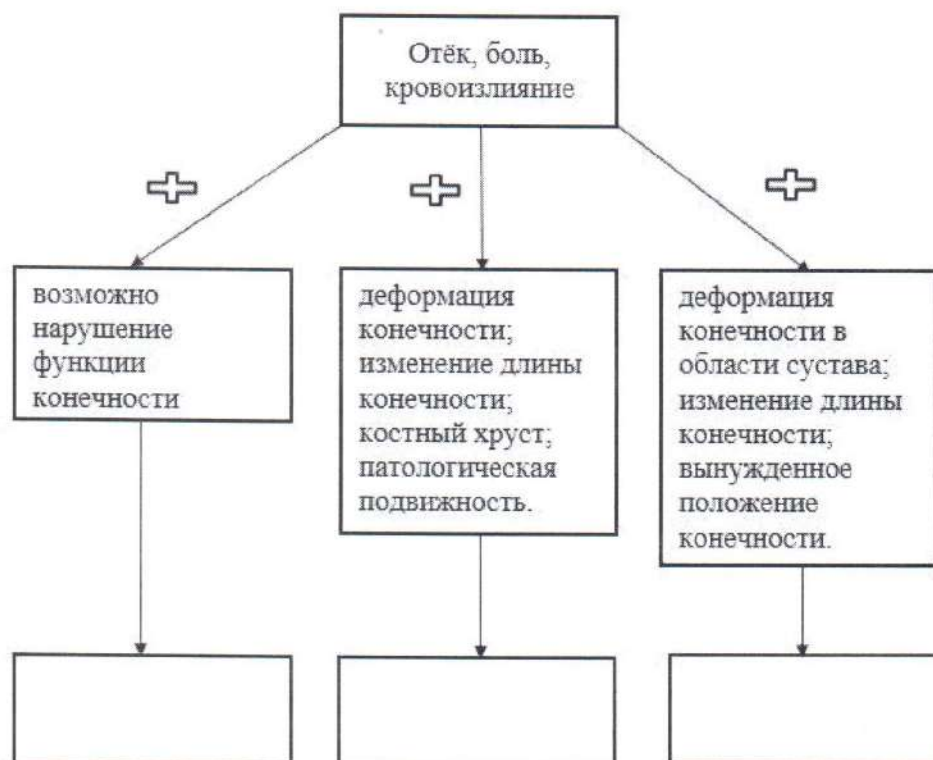
Перечислите, состоящие из десяти пунктов, рекомендации полиции, которые помогут уберечься от воров-карманников.

1. Не носить ценные вещи в задние карманы штатов и шорт.
2. Если видите подозрительного человека, уходите в людное место.
3. Носить с собой перцовый баллончик.
- 4.

Задание 4

Травмы конечностей встречаются достаточно часто. Общими их признаками являются отёк, боль, кровоизлияние.

А. Дополните схему. Укажите, какие повреждения можно заподозрить у пострадавшего, если к указанным признакам присоединяется ряд других признаков.



Б. При травмах конечностей применяется иммобилизация.

Укажите, какое количество суставов необходимо зафиксировать при переломе (вывихе)

1. предплечья и голени

2. плеча и бедра.

2 - плеча и бедра

Максимум за работу – 100 баллов.