



Тестовые задания

*Определите один правильный ответ.
За правильный ответ начисляется 2 балла.*

- 1. Что означает следующий символ, используемый в международной кодовой таблице сигналов бедствия?**
 а) нужны медикаменты
 б) нужны оружие и боеприпасы
 в) нужны компас и карты
 г) нужны продовольствие и вода
- 
- 2. На компасе Адрианова азимут на север равен**
 а) 90°
 б) 360°
 в) 180°
 г) 270°
 - 3. При утечке газ пропан**
 а) поднимается вверх
 б) опускается вниз
 в) стелется по земле
 г) растворяется в воздухе
 - 4. Как расшифровывается аббревиатура «МЧС»?**
 а) Министерство Российской Федерации по делам гражданской обороны, чрезвычайным ситуациям и ликвидации последствий стихийных бедствий
 б) Министерство России по делам гражданской обороны, чрезвычайным ситуациям и ликвидации последствий стихийных бедствий
 в) Министерство Российской Федерации по чрезвычайным ситуациям и ликвидации последствий стихийных бедствий
 г) Министерство России по делам гражданской обороны и ликвидации последствий стихийных бедствий
 - 5. Для чего применяется дезинсекция?**
 а) для удаления радиоактивных веществ
 б) для удаления опасных и токсических химических веществ
 в) для уничтожения насекомых – переносчиков инфекционных заболеваний
 г) для уничтожения грызунов – переносчиков инфекционных заболеваний

6. **Скорость урагана достигает**
а) 110 км/ч
б) 101 км/ч
в) 62 км/ч
г) 120 км/ч
7. **Вязка какого узла изображена на рисунке?**
а) бабьего
б) прямого
в) фламандского
г) дубового
- 
8. **Верны ли приведённые суждения?**
А) Никотин является опасным растительным ядом.
Б) Никотин в малых дозах возбуждает, а в больших дозах тормозит деятельность клеток центральной нервной системы
а) верно только А
б) верно только Б
в) верны оба суждения
г) оба суждения неверны
9. **Какой признак указывает на повреждение спинного мозга при травме позвоночника?**
а) рана в области позвоночника
б) кровоизлияние в области позвоночника
в) резкая боль в области позвоночника
г) отсутствие движения в конечностях ниже места повреждения
10. **Какое мероприятие первой помощи выполняют при отсутствии у пострадавшего сознания (при наличии пульса и дыхания)?**
а) приподнимают ноги
б) проводят компрессии на грудную клетку
в) выполняют сердечно-лёгочную реанимацию
г) переводят пострадавшего в устойчивое боковое положение

Определите все правильные ответы.

За каждый правильный ответ начисляется 2 балла.

11. **Что из перечисленного относится к личному снаряжению в туристическом походе?**
- а) рюкзак
 - б) палатка
 - в) тент
 - г) котелок
 - д) кружка
12. **Какое смысловое значение несёт красный цвет, используемый в знаках безопасности?**
- а) непосредственная опасность
 - б) аварийная или опасная ситуация
 - в) возможная опасность
 - г) предписание во избежание опасности
 - д) указание
13. **К относительно безопасным бытовым химикатам можно отнести**
- а) стиральные порошки
 - б) отбеливающие средства
 - в) мыло
 - г) растворители
 - д) препараты для борьбы с насекомыми
14. **По причинам возникновения чрезвычайные ситуации подразделяют на**
- а) экологические
 - б) технологические
 - в) социальные
 - г) дорожные
 - д) криминальные
15. **При падении в толпе в первую очередь необходимо:**
- а) как можно быстрее встать
 - б) постараться на четвереньках отползти в укрытие
 - в) защитить голову руками
 - г) защитить подручными предметами живот
 - д) поднять руку, привлекая внимание

16. **К видам наводнений относятся**
- а) ветровой нагон
 - б) зажор
 - в) сильный тягун
 - г) низкие уровни воды
 - д) осенний тягун
17. **Какие действия запрещается выполнять при ожоге конечности с повреждением целостности кожи?**
- а) отрывать прилипшую одежду
 - б) охлаждать, приложив холод через стерильную (чистую) ткань
 - в) охлаждать под струёй воды
 - г) накладывать нетугую повязку
 - д) давать питьё
18. **Какие календари профилактических прививок утверждены Министерством здравоохранения РФ?**
- а) календарь путешественников
 - б) национальный календарь
 - в) профессиональный календарь
 - г) по эпидемическим показаниям
 - д) детский календарь
19. **Какие признаки характерны для гипотермии средней степени тяжести (температура тела 30–34 °С)?**
- а) мышечное окоченение
 - б) озноб, мышечная дрожь
 - в) замедление сердечного ритма
 - г) учащение сердечного ритма
 - д) возбуждение, беспокойство
20. **Какие из перечисленных средств отсутствуют в аптечке первой помощи (автомобильной), но входят в состав аптечки для оказания первой помощи работникам?**
- а) жгут кровоостанавливающий
 - б) медицинские перчатки
 - в) устройство для проведения искусственного дыхания «рот–устройство–рот»
 - г) покрывало спасательное изотермическое
 - д) маска медицинская трёхслойная

Всероссийская олимпиада школьников по ОБЖ
Муниципальный этап. 7–8 классы

Таблица ответов на тестовые задания теоретического тура

Номер теста	Верный ответ	Номер теста	Верный ответ
1	a	11	a, D
2	a	12	b
3	z	13	b
4	a	14	D
5	b	15	b
6	z	16	a
7	a	17	a
8	b	18	z
9	z	19	a
10	b	20	b

Максимум за тестовые задания 60 баллов.

Теоретические задания






Задание 1

Перечислите, состоящие из десяти пунктов, рекомендации полиции, которые помогут уберечься от воров-карманников.

- ① ухаживать за друзьями
- ② быть внимательным
- ③ куда-то не замедлять
- ④ не поддаваться их разговору
- ⑤ сообщать если увидишь вора
- ⑥ не оставлять свои вещи где попало
- ⑦ с незнакомыми людьми не разговаривать
- ⑧ быть осторожным
- ⑨ помочь людям от воров и карманников
- ⑩ если увидишь вора сообщай полиции.

Задание 2

Укажите знаком «+» в крайнем левом или крайнем правом столбце, какие из ситуаций, изображённых на картинках, относятся к опасным, а какие к экстремальным?

Опасная ситуация	Изображение	Экстремальная ситуация
+		
		
		+
		
+		

Задание 3

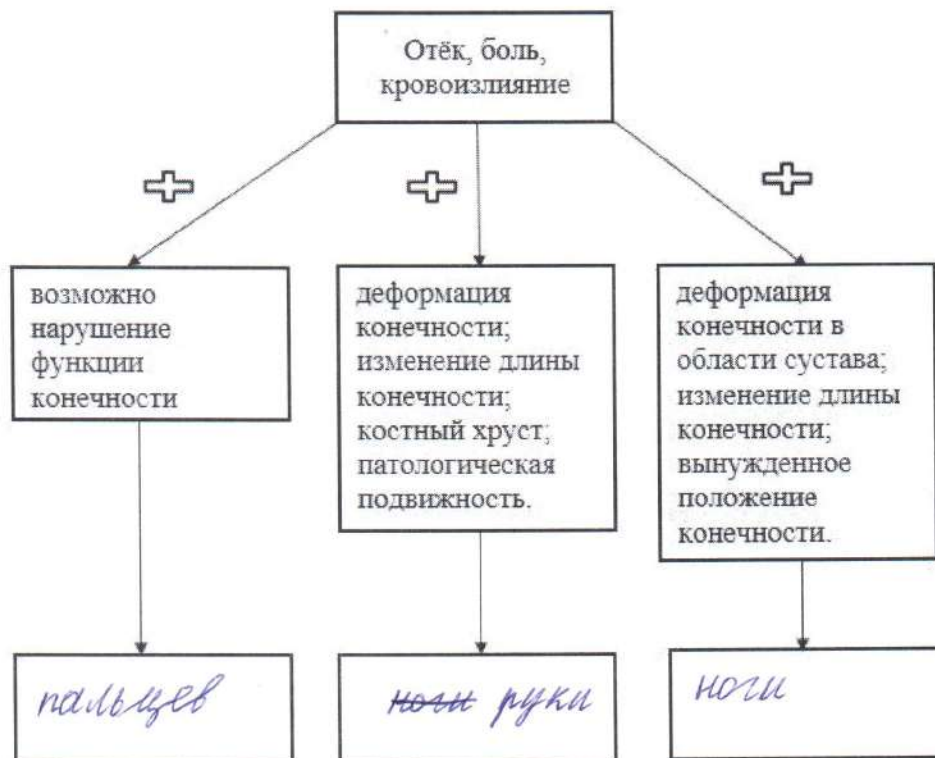
Перечислите, состоящие из пяти пунктов, предупредительные инженерные мероприятия по защите от наводнений во время весеннего половодья.

- ① не подходить
- ② не трогать
- ③ шуметь рабочим
- ④ не казать
- ⑤ без разрешения не входить

Задание 4

Травмы конечностей встречаются достаточно часто. Общими их признаками являются отёк, боль, кровоизлияние.

А. Дополните схему. Укажите, какие повреждения можно заподозрить у пострадавшего, если к указанным признакам присоединяется ряд других признаков.



Б. При травмах конечностей применяется иммобилизация.

Укажите, какое количество суставов необходимо зафиксировать при переломе (вывихе)

1. предплечья и голени
2. плеча и бедра.

① - только 2
2 - только 1

Максимум за работу – 100 баллов.