

9-3

Всероссийская олимпиада школьников по ОБЖ
Муниципальный этап. 9 класс

Тестовые задания

Определите один правильный ответ.

За правильный ответ начисляется 2 балла.


- 1. Одной из причин гибели людей при пожаре является отравление:**
 - а) двуокисью углерода
 - б) оксидом серы
 - в) альдегидами
 - г) оксидом углерода
- 2. На компасе Адрианова азимут на восток равен**
 - а) 90°
 - б) 360°
 - в) 180°
 - г) 270°
- 3. К каким загрязнителям относятся ксенобиотики?**
 - а) химическим
 - б) физическим
 - в) биологическим
 - г) информационным
- 4. Как расшифровывается аббревиатура «РСЧС»?**
 - а) Государственная система предупреждения и ликвидации чрезвычайных ситуаций
 - б) Единая государственная система по делам гражданской обороны и ликвидации чрезвычайных ситуаций
 - в) Единая государственная система предупреждения и ликвидации чрезвычайных ситуаций
 - г) Российская система предупреждения и ликвидации чрезвычайных ситуаций
- 5. Дегазация применяется для удаления**
 - а) радиоактивных веществ
 - б) опасных и токсических химических веществ
 - в) переносчиков инфекционных болезней
 - г) ядовитых и заболевших растений

6. Рухнуло ветхое здание, из которого выселены все жильцы. Такая ситуация называется
- а) чрезвычайной
 - б) экстремальной
 - в) опасной
 - г) аварийной
7. Какому уровню террористической опасности соответствует «жёлтый» цвет?
- а) постоянному
 - б) повышенному
 - в) высокому
 - г) критическому
8. Какие пищевые вещества составляют основную часть суточного рациона человека?
- а) белки
 - б) жиры
 - в) углеводы
 - г) витамины
9. Какое мероприятие выполняется после проведения простых медицинских манипуляций, соответствующих состоянию пострадавшего?
- а) контроль за состоянием пострадавшего
 - б) создание безопасных условий для оказания первой помощи
 - в) придание пострадавшему оптимального положения тела
 - г) передача пострадавшего бригаде скорой медицинской помощи
10. Сколько и какие суставы нужно иммобилизовать при переломе плеча?
- а) один (локтевой сустав)
 - б) два (плечевой и локтевой суставы)
 - в) два (локтевой и лучезапястный суставы)
 - г) три (плечевой, локтевой и лучезапястный суставы)

Определите все правильные ответы.

За каждый правильный ответ начисляется 2 балла.

11. **Что из перечисленного входит в носимый аварийный запас (НАЗ) с предметами первой необходимости?**
- а) спички
 - б) котелок
 - в) туалетные принадлежности
 - г) обезвоженная сухая пища и витамины
 - д) слегка обожжённые кусочки ваты
12. **Высокий уровень шума способен вызвать у человека**
- а) повышенное давление
 - б) головную боль
 - в) снижение иммунитета
 - г) боль в суставах
 - д) ухудшение координации
13. **Какое смысловое значение несёт синий цвет, используемый в знаках безопасности?**
- а) непосредственная опасность
 - б) аварийная или опасная ситуация
 - в) возможная опасность
 - г) предписание во избежание опасности
 - д) указание
14. **Укажите минимальную и максимальную скорость ветра при буре по шкале Бофорта**
- а) от 62 км/ч
 - б) от 60 км/ч
 - в) до 101 км/ч
 - г) до 120 км/ч
 - д) до 110 км/ч
15. **К опасным геологическим явлениям относятся**
- а) магнитные бури
 - б) гололёд
 - в) землетрясения
 - г) оползни
 - д) обвалы

16. **При местной чрезвычайной ситуации**
- а) количество пострадавших человек 11–50
 - б) прямой материальный ущерб до 100 минимальных зарплат
 - в) прямой материальный ущерб 101–300 минимальных зарплат
 - г) прямой материальный ущерб до 301–500 минимальных зарплат
 - д) количество пострадавших человек 51–500
17. **К основным видам террористической деятельности относятся**
- а) криминальный терроризм
 - б) классовый терроризм
 - в) расовый терроризм
 - г) государственный терроризм
 - д) религиозный терроризм
18. **Какие нарушения в организме человека могут возникнуть при недостаточном поступлении йода с пищей?**
- а) ухудшение памяти
 - б) снижение массы тела
 - в) увеличение массы тела
 - г) гиперактивность, суетливость
 - д) повышение температуры тела
19. **При каких травмах и (или) состояниях пострадавшему придают оптимальное положение тела, изображённое на рисунке?**
- а) острая боль за грудиной
 - б) большая кровопотеря
 - в) отёк лёгких
 - г) травма живота
 - д) травма нижних конечностей
- 
20. **Какие признаки характерны для инфаркта миокарда?**
- а) периодические покалывания в области сердца
 - б) постоянная боль за грудиной с распространением в левую половину грудной клетки
 - в) боль в области сердца при глубоком вдохе
 - г) боль под левой лопаткой при движении
 - д) бледность лица, холодный пот

Всероссийская олимпиада школьников по ОБЖ
Муниципальный этап. 9 класс

Таблица ответов на тестовые задания теоретического тура

Номер теста	Верный ответ	Номер теста	Верный ответ
1	г	11	г
2	г	12	г
3	б	13	г
4	г	14	в, г
5	б	15	б
6	г	16	а
7	б	17	а
8	в	18	а
9	б	19	г
10	в	20	б

Максимум за тестовые задания 60 баллов.

Теоретические задания






Задание 1

Перечислите, состоящие из пяти пунктов, рекомендации безопасного поведения при неблагоприятной экологической обстановке.

- 1) Взять документы, деньги
- 2) Изготовить маршрутную эвакуацию
- 3) Начальную эвакуацию на спец. транспорте
- 4) Прибыть в пункт эвакуации
- 5) Пройти осмотр

Задание 2

Впишите в таблицу название вида костра.

	<i>кашарей</i>
	
	<i>цветок</i>
	<i>Звезда</i>
	<i>бечка</i>

Задание 3

Опишите, состоящие из десяти пунктов, рекомендуемые правила поведения, если Вы оказались в заложниках.

Вести себя спокойно

выполнять требования угроз (террористов и др)

не париться

Держаться ближе к земле, с другим заложником (если не один)

Не пытайтесь выбраться самим

Помогать себе слышать

Слушать и выполнять указания террористов

проявлять инициативу в своем классе

Действовать по ситуации, не делайте шумов

В случае ранения оказать П.М.П.

Задание 4

Прочитайте текст.

А. Впишите пропущенные слова и числа.

Вы идёте по улице с другом и видите лежащего человека без признаков сознания (признаки биологической смерти отсутствуют).

1) проверить наличие признаков жизни, к которым относятся:

а) наличие (отсутствие) пульса;

б) наличие (отсутствие) реакция зрачков (если нет, то зрачки мутно/мутные);

в) наличие (отсутствие) работы сердца, дыхания;

2) при отсутствии признаков жизни приступить к проведению сердечно-лёгочной реанимации, т. е. выполнить;

3) искусственное дыхание (2 вдоха), предварительно обеспечив проходимость дыхательных путей; выполнить 0 (1-го 20 минут)

4) при появлении признаков жизни после проведения сердечно-лёгочной реанимации или при первоначальном их наличии у пострадавшего перевести пострадавшего удобной и безопасной ПМР. или 103 положение;

5) сделать 10 давлений на грудину пострадавшего; (1-20 минут)

6) оценить обстановку, обеспечить безопасные условия для оказания первой помощи;

7) контролировать признаки жизни до приезда скорой медицинской помощи;

8) попросить друга вызвать скорую медицинскую помощь.

Б. Расположите действия по оказанию первой помощи в порядке их выполнения. Запишите цифры, которыми обозначены действия, в правильной последовательности.

Ответ: 1, 2, 3, 5, 4, 6, 8, 7.

Максимум за работу – 100 баллов